



TELENSINO



MATEMÁTICA A – 10ºANO

Gracinda Santos

Zeros e fatorização de polinómios

Exercício 3- Aula Nº9 Considera o polinómio $P(x) = x^4 - 7x^3 + 17x^2 - 17x + 6$.

3.1 Sabendo que 1 é uma raiz de $P(x)$, determina a multiplicidade desta raiz.

3.2 Decompõe $P(x)$ em fatores do primeiro grau.



Resolução:

3.1

Regra de Ruffini

	1	-7	17	-17	6
1		1	-6	11	-6
	1	-6	11	-6	0
1		1	-5	6	
	1	-5	6	0	
1		1	-4		
	1	-4	2 ≠ 0		

1 é raiz de $P(x)$ de multiplicidade 2

3.2

$$P(x) = (x - 1)^2(x^2 - 5x + 6)$$

$$\Leftrightarrow P(x) = (x - 1)(x - 1)(x^2 - 5x + 6)$$

Determinando os zeros de $x^2 - 5x + 6$, vem:

$$x^2 - 5x + 6 = 0$$

$$\Leftrightarrow x = \frac{-(-5) \pm \sqrt{(-5)^2 - 4 \times 1 \times 6}}{2 \times 1}$$

$$\Leftrightarrow x = 3 \vee x = 2$$

E como o coeficiente do termo de maior grau de $P(x)$ é 1

$$P(x) = \underbrace{(x - 1)(x - 1)(x - 2)(x - 3)}$$

$P(x)$ decomposto em fatores do 1º grau

Zeros e fatorização de polinómios

Exercício 3- Aula Nº9

Considera o polinómio $P(x) = x^4 - 7x^3 + 17x^2 - 17x + 6$.

Sabendo que 1 é raiz de $P(x)$ de multiplicidade 2, decompõe $P(x)$ em fatores do 1º grau.



Resolução: Outro Processo...

1 é raiz de $P(x)$ de multiplicidade 2

Regra de Ruffini

	1	-7	17	-17	6
1		1	-6	11	-6
	1	-6	11	-6	0
1		1	-5	6	
	1	-5	6	0	
2		2	-6		
	1	-3	0		
3		3			
	1	0			

Teorema das raízes inteiras

As raízes inteiras de um polinómio $P(x)$, de grau $n \in \mathbb{N}$ e coeficientes inteiros, quando existem, são **divisores inteiros** do termo independente (termo de grau zero).

O termo independente de $P(x)$ é 6.

Divisores naturais de 6 (em \mathbb{N}) são: 1, 2, 3 e 6.

Divisores inteiros de 6 (em \mathbb{Z}) são: -6, -3, -2, -1, 1, 2, 3 e 6

$$P(x) = \underbrace{(x - 1)(x - 1)(x - 2)(x - 3)}$$

$P(x)$ decomposto em fatores do 1º grau

Zeros de um polinómio com recurso à calculadora gráfica

Considerando o polinómio $P(x) = x^4 - 7x^3 + 17x^2 - 17x + 6$.

MENU ALPHA X,θ,T F2 F3 1 EXE (-) 7 EXE 1 7 EXE (-) 1 7 EXE 6 EXE EXE



$aX^2+bX+c=0$
Equation

Graph

Math Rad Norm1 d/c Real

$a_0 X^4 + a_1 X^3 + \dots + a_4 = 0$

X1 [3]

X2 [2]

X3 [1] x2

3

REPEAT

Math Rad Norm1 Real

Graph Func : Y=

Y1= $x^4 - 7x^3 + 17x^2 - 17x + 6$

Y2: [—]

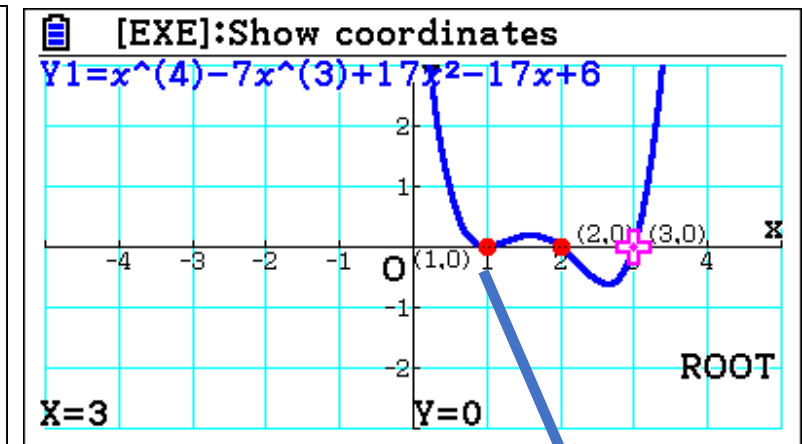
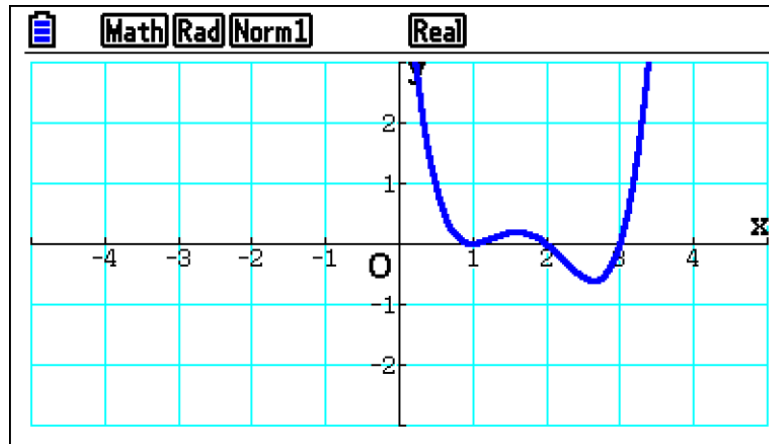
Y3: [—]

Y4: [—]

Y5: [—]

Y6: [—]

Y r Xt Yt X

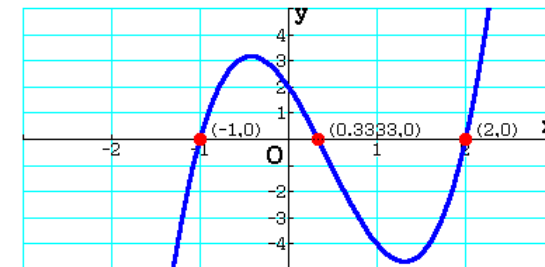


Zero duplo

Zeros e fatorização de polinómios

Exercício 1 Resolva, em IR, a equação,

$$3x^3 - 4x^2 - 5x = -2.$$



 **Resolução:**

1ºPasso: Escrever a equação na forma $P(x) = 0$

$$3x^3 - 4x^2 - 5x = -2 \Leftrightarrow 3x^3 - 4x^2 - 5x + 2 = 0$$

2ºPasso: Fatorizar $P(x)$ em fatores de grau 1 e/ou grau 2.

Utilizando o Teorema das raízes inteiras, os divisores inteiros de 2 (termo independente) são $-2, -1, 1$ e 2 , que são valores candidatos a raízes inteiras de $P(x) = 3x^3 - 4x^2 - 5x + 2$

Calculando o valor numérico de:

$$P(-2) = 3 \times (-2)^3 - 4 \times (-2)^2 - 5 \times (-2) + 2 = -28 \neq 0$$

$$P(-1) = 3 \times (-1)^3 - 4 \times (-1)^2 - 5 \times (-1) + 2 = 0$$

$$P(1) = 3 \times 1^3 - 4 \times 1^2 - 5 \times 1 + 2 = -4 \neq 0$$

$$P(2) = 3 \times 2^3 - 4 \times 2^2 - 5 \times 2 + 2 = 0$$

Então, $P(x)$ é divisível por $(x + 1)$ e $(x - 2)$

3ºPasso: $3x^3 - 4x^2 - 5x + 2 = 0 \Leftrightarrow (x + 1)(x - 2)(3x - 1) = 0$

$$\Leftrightarrow x + 1 = 0 \vee x - 2 = 0 \vee 3x - 1 = 0 \Leftrightarrow x = -1 \vee x = 2 \vee x = \frac{1}{3}$$

4ºPasso: O conjunto solução da equação, em IR, é $\left\{-1, \frac{1}{3}, 2\right\}$.

Regra de Ruffini

	3	-4	-5	2
-1		-3	7	-2
	3	-7	2	0
2		6	-2	
	3	-1	0	

$$P(x) = (x + 1)(x - 2)(3x - 1)$$



Nota: Um polinómio pode ter raízes que não sejam divisores inteiros do seu termo independente, mas, nesse caso, as raízes não são inteiras.

Zeros e fatorização de polinómios

Exercício 2 Decompõe em fatores, do menor grau possível, os seguintes polinómios:

2.1 $x^2 - 9$

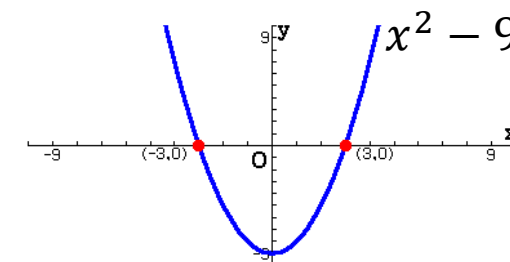


Resolução:

$$x^2 - 9 = 0$$

$$\Leftrightarrow x^2 = 9 \Leftrightarrow x = -\sqrt{9} \vee x = \sqrt{9} \Leftrightarrow x = -3 \vee x = 3$$

$$\text{Então } x^2 - 9 = (x + 3)(x - 3)$$



2.2 $3x^2 - 27$



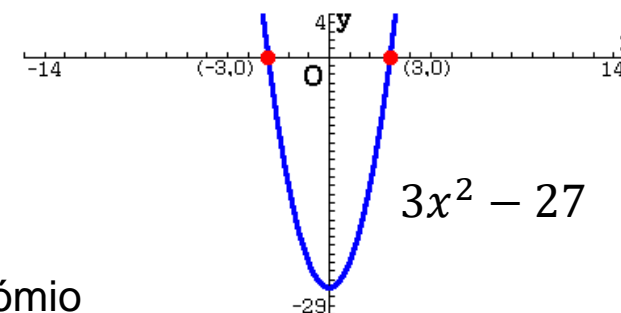
Resolução:

$$3x^2 - 27 = 0$$

$$\Leftrightarrow 3x^2 = 27 \Leftrightarrow x^2 = 9 \Leftrightarrow x = -3 \vee x = 3$$

$$\text{Então } 3x^2 - 27 = 3(x + 3)(x - 3)$$

↓
Coeficiente do termo de maior grau do polinómio



2.3 $-x^2 + 2x - 1$



Resolução:

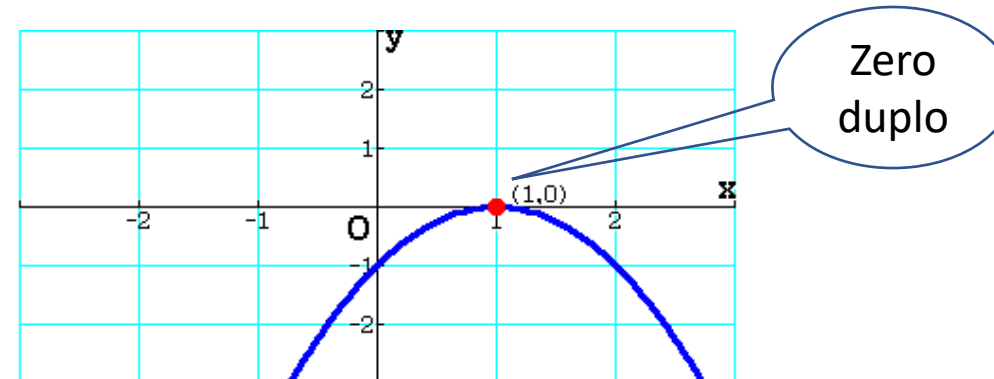
$$-x^2 + 2x - 1 = 0$$

$$\Leftrightarrow x = \frac{-2 \pm \sqrt{2^2 - 4 \times (-1) \times (-1)}}{2 \times (-1)}$$

$$\Leftrightarrow x = 1 \vee x = 1$$

$$\text{Então } -x^2 + 2x - 1 = -(x - 1)(x - 1)$$

↓
Coeficiente do termo de maior grau do polinómio



Zeros e fatorização de polinómios

Exercício 2 Decompõe em fatores, do menor grau possível, os seguintes polinómios:

$$2.4 \ x^3 - x$$

Estuda com Autonomia!

Procura no teu manual os exercícios relacionados com a **decomposição ou fatorização de polinómios** e pratica.

*“Na sala de aula, todos ensinam, todos aprendem.”
Em casa, também, poderá ser igual!*

